

EVALUACIÓN MENSUAL JUNIO

ALUMNO: _____ GRADO: ___

Tema _____

TEMA 1

1. Indica los órganos que se señalan

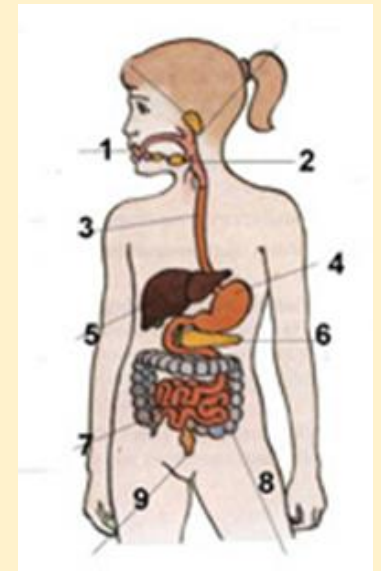


2. Escribe el nombre de los órganos 1, 2 y 3

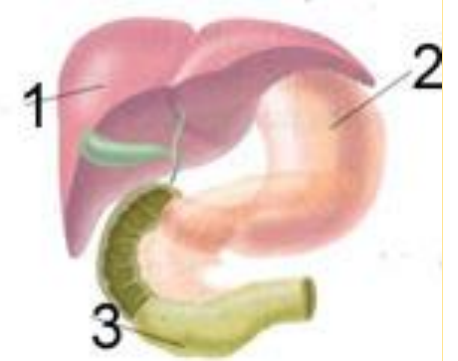


TEMA 2

1. Indica los órganos correspondientes a los números 5, 6 y 3



2. Escribe el nombre de los órganos que se señalan



TEMA 1

3. ¿Cómo se clasifican las vitaminas?



- a. En orgánicas e inorgánicas
- b. En hidrosolubles y liposolubles
- c. En monosacáridos y disacáridos
- d. En hipervitaminosis e hipovitaminosis

4. ¿Qué crees que es "lo no blanco" del embutido?

- a. Almidón
- b. Proteína
- c. Glucosa
- d. Grasa



TEMA 2

3. ¿Cómo son las frutas y verduras?

- a. Muy ricos en aminoácidos
- b. Ricos en fibra y vitaminas
- c. Muy ricos en grasas
- d. Muy pobres en fibra

Frutas y verduras



4. ¿Qué es la mantequilla?

- a. Un lípido
- b. Un alimento muy poco energético
- c. Una vitamina muy energética
- d. Una proteína



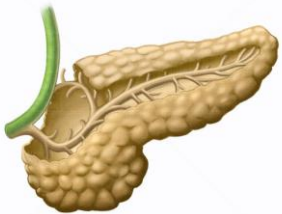
TEMA 1

5. El vientre hinchado es un signo claro de la enfermedad de kwashiorkor. ¿Por qué se produce?



- a. Por falta total de alimentación
- b. Por falta grave de proteínas en la dieta
- c. Por falta de vitaminas hidrosolubles en la dieta
- d. Por exceso de alimentación grasa

6. ¿Dónde es vertido el jugo pancreático?



- a. Es vertido a la vesícula biliar
- b. Es vertido al hígado
- c. Es vertido al estómago
- d. Es vertido al páncreas
- e. Es vertido al duodeno

TEMA 2

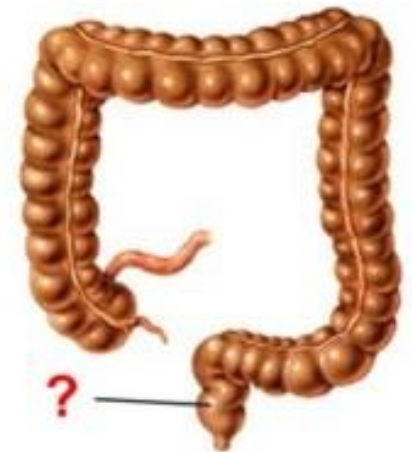
5. ¿Es verdad que hay alimentos que no engordan?

- a. Sí
- b. No
- c. Hay uno: el agua
- d. Hay muchos, como la lechuga



6. ¿Qué nombre recibe la última porción del intestino grueso?

- a. Duodeno
- b. Recto
- c. Colon
- d. Apéndice



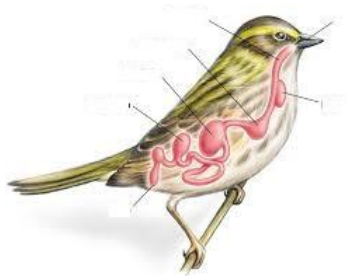
TEMA 1

7. ¿Cómo llegan a todo tu cuerpo los nutrientes que resultan de la digestión?

- a. A través de las mitocondrias
- b. Por el estómago
- c. A través de la sangre
- d. Por el intestino grueso



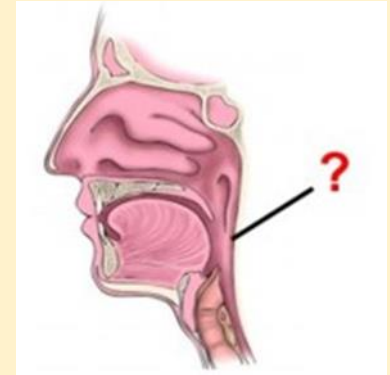
8. 4 modificaciones del aparato digestivo de las aves:



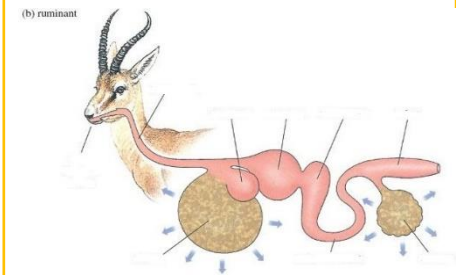
TEMA 2

7. ¿Qué tienes entre la boca y el esófago?

- a. La laringe
- b. La tráquea
- c. La nuez
- d. La faringe

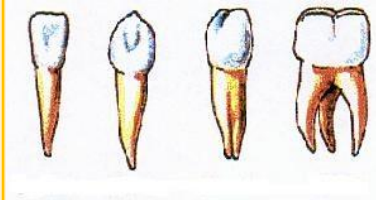


8. Indica las 4 modificaciones del estómago de un rumiante

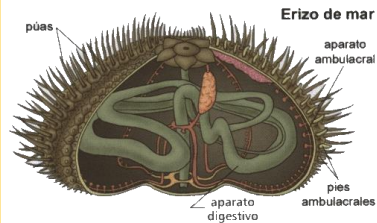


TEMA 1

9. Indica las cuatro clases de dientes

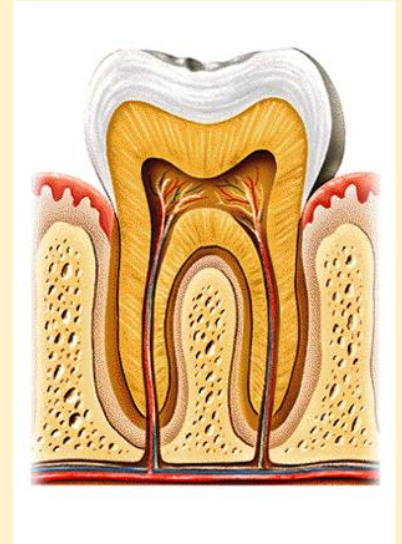


10. Qué nombre toma la modificación de la boca en el erizo de mar



TEMA 2

9. Escribe 4 estructuras de diente



10. Nombre de la modificación de la boca del caracol

